



$50+50=$	$100+100=$	$1.000+1.000=$
$10+10=$	$500+500=$	$20+20=$
$200+200=$	$5+5=$	$2.000+2.000=$


- $169 + 150 =$ 400
- $184 + 182 =$ 202
- $125 + 77 =$ 319
- $310 + 90 =$ 366

MULTIPLICAR es sumar varias veces el mismo número.

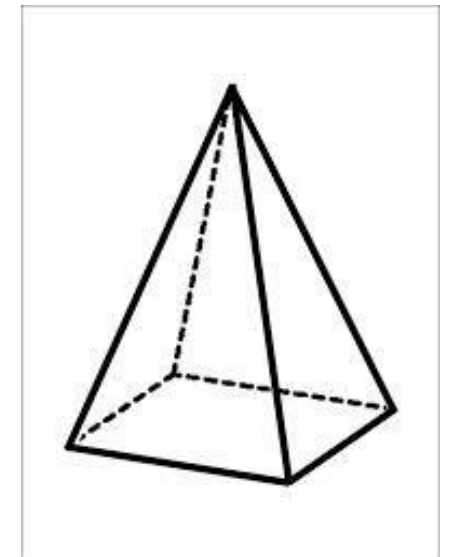
Para multiplicar usamos el signo POR X.



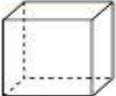



Sus partes son:

- 3 multiplicando
- X 2 Multiplicador
- 6 producto













E	S	F	E	R	A	B	O	C	D	C
P	R	I	S	M	A	U	N	O	T	U
P	I	R	A	M	I	D	E	N	R	B
C	I	L	I	N	D	R	O	O	S	O



CUERPO	ELEMENTO
	CARTUCHERA
	
	
	
	
	

LA TABLA DEL 2








Contá las medias y descubrí los resultados de la tabla del 2.

$2 \times 0 = \dots\dots\dots$	 $2 \times 1 = 2$
 $2 \times 2 = \dots\dots\dots$	 $2 \times 3 = \dots\dots\dots$
 $2 \times 4 = \dots\dots\dots$	 $2 \times 5 = \dots\dots\dots$
 $2 \times 6 = \dots\dots\dots$	 $2 \times 7 = \dots\dots\dots$
 $2 \times 8 = \dots\dots\dots$	 $2 \times 9 = \dots\dots\dots$
 $2 \times 10 = \dots\dots\dots$	

- Mirá los precios de cada producto.
- Calculá cuánto pagó cada uno de los chicos y dibujá el producto que compró.

FLORERÍA La Primavera

 Planta con flor \$42	 Regadera \$38	 Delantal jardinero \$63
 Tijera \$75	 Guantes para jardinería \$26	 Cactus \$33

 \$10 \$10 \$10 \$1 \$1 \$1 	 \$10 \$10 \$10 \$1 \$1 \$1 \$1 \$1 \$1 
 \$10 \$10 \$10 \$10 \$10 \$10 \$10 \$1 \$1 \$1 \$1 \$1 	 \$10 \$10 \$10 \$10 \$10 \$10 \$1 \$1 \$1 